

## ภาคผนวก ค

แบบทดสอบวัดความรู้พื้นฐานเกี่ยวกับประชาคมอาเซียน


## แบบทดสอบ

ชื่อ- นามสกุล.....


เลขที่.....ชั้น อ.3/.....

เขียน × เลือกคำตอบที่ถูกต้อง ให้เวลาในการทำแบบทดสอบ 20 นาที


1. ซ้อกล้วย รูปใดเป็นอาหารประจำชาติลาว (Laos)



2. ซ้อส้ม รูปใดเป็นอาหารประจำชาติไทย (Thailand)




3. ซ้อแอปเปิล รูปใดเป็นอาหารประจำชาติพม่า (Myanmar)




4. ซ้อเลมอน รูปใดเป็นอาหารประจำชาติอินโดนีเซีย (Indonesia)



5. ซ้อเซอร์รี รูปใดเป็นธงชาติประจำชาติมาเลเซีย (Malaysia)



6. ข้อสตรอร์เบอร์รี่ รูปใดเป็นธงชาติประจำชาติเวียดนาม (Vietnam)



7. ข้อมั่งคุด รูปใดเป็นธงชาติประจำชาติฟิลิปปินส์ (Philippines)




8. ข้ออุงุ่น รูปใดเป็นธงชาติประจำชาติสิงคโปร์ (Singapore)




9. ซ้อกีวี คนประเทศใดกล่าวคำทักทายว่า ซาลามัต ดาตัง (Salamat Datang)



10. ซ้อสับปรต คนประเทศใดกล่าวคำทักทายว่า ชัวสเด (Shuo Sa Dai)



11. ซ้อมะม่วง คนประเทศใดกล่าวคำทักทายว่า สบายดี (Sabaidee)




12. ซ้อแตงโม คนประเทศใดกล่าวคำทักทายว่า สวัสดี (Sawasdee)



13. ซ้อลำไย รูปใดเป็นชุดแต่งกายประจำชาติพม่า (Myanmar)



14. ซ้อลิ้นจี่ รูปใดเป็นชุดแต่งกายประจำชาติอินโดนีเซีย (Indonesia)




15. ข้อฝรั่ง รูปใดเป็นชุดแต่งกายประจำชาติมาเลเซีย (Malaysia)




16. ข้อชมพู รูปใดเป็นชุดแต่งกายประจำชาติเวียดนาม (Vietnam)



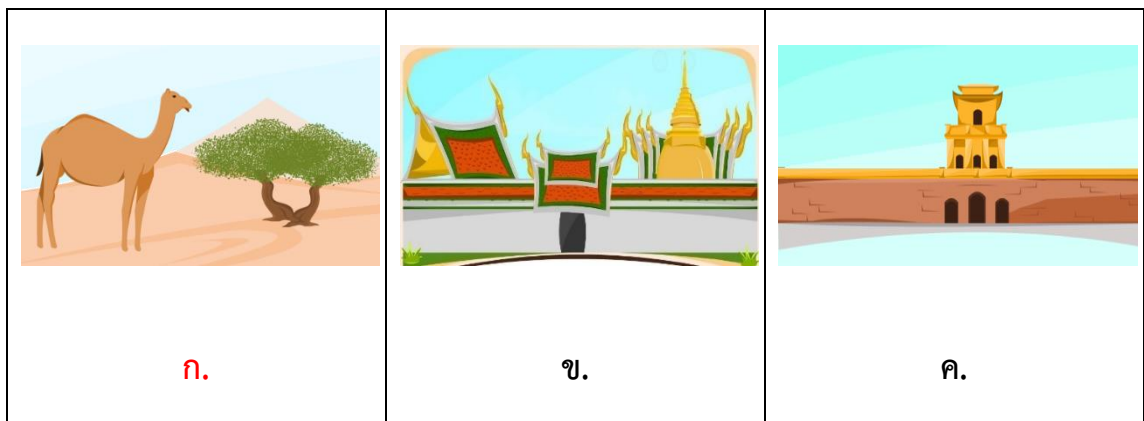
17. ข้อพลับ รูปใดเป็นสถานที่สำคัญประจำชาติฟิลิปปินส์ (Philippines)



18. ซ้อมัมไอ รูปใดเป็นสถานที่สำคัญประจำชาติสิงคโปร์ (Singapore)



19. ซ้อมะพร้าว รูปใดเป็นสถานที่สำคัญประจำชาติบรูไน (Brunei)



20. ซ้อทุเรียน รูปใดเป็นสถานที่สำคัญประจำชาติกัมพูชา (Cambodia)

